

Time: 10 Minutes

Paper Math 2


Total Marks: 10

3rd Month, 1st Week, 3rd Day

Syllabus: Page No.91. Try Yourself. Q # (i),(ii)

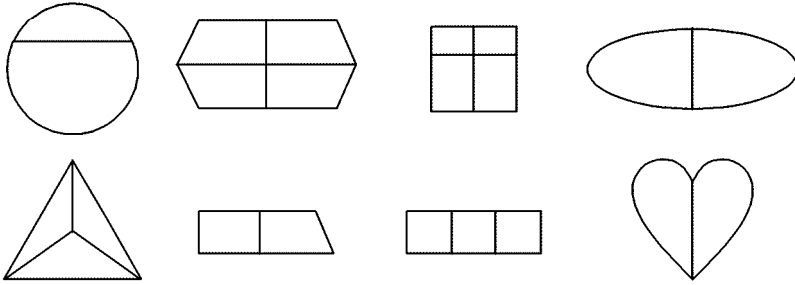
Q.1. Tick (✓) the following objects that are divided into equal parts. (5)

جو چیزیں 2 برابر حصوں میں تقسیم کی گئی ہیں ان پر (✓) لگائیں۔



Q.2. Tick (✓) the shapes that are divided into equal parts. (5)

ان تصاویر پر (✓) لگائیں جو دو برابر حصوں میں تقسیم ہیں۔



Time: 10 Minutes

Paper Math 2

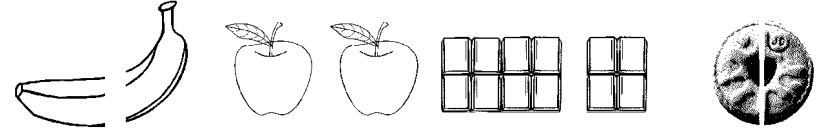
Total Marks: 10

3rd Month, 1st Week, 3rd Day

Syllabus: Page No.91. Try Yourself. Q # (i),(ii)

Q.1. Tick (✓) the following objects that are divided into equal parts. (5)

جو چیزیں 2 برابر حصوں میں تقسیم کی گئی ہیں ان پر (✓) لگائیں۔



Q.2. Tick (✓) the shapes that are divided into equal parts. (5)

ان تصاویر پر (✓) لگائیں جو دو برابر حصوں میں تقسیم ہیں۔

